



依規律在空格內填上適當的數。

1

55			58				
----	--	--	----	--	--	--	--

2

			75	73			65
--	--	--	----	----	--	--	----

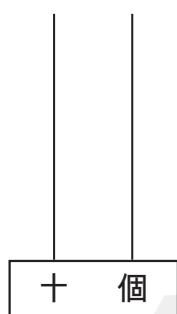
3

	82	84					
--	----	----	--	--	--	--	--

4

		92				88	87	
--	--	----	--	--	--	----	----	--

5 在下圖算柱上畫出一個 70 以內的最大兩位單數。



(a) 這個數讀作：_____

(a) 十位數字是 _____，代表 _____；

個位數字是 _____，代表 _____。

(b) _____ = _____ + _____

6

56	,	65	,	54	,	69
----	---	----	---	----	---	----

把以上的數由小至大排列出來。

_____, _____, _____, _____
 (最小) (最大)

7 在 100 以內，最大的兩位數是 _____，最小的兩位數是 _____。

8 100 讀作 _____，它是 * 單數 / 雙數。(* 圈出答案)



3 認識 51-100

1. $55, 56, 57, 58, 59, 60,$
 $61, 62, 63$

2. $81, 79, 77, 75, 73, 71,$
 $69, 67, 65$

3. $80, 82, 84, 86, 88, 90,$
 $92, 94, 96$

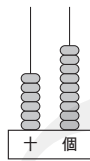
4. $94, 93, 92, 91, 90, 89,$
 $88, 87, 86$

5. (a) 六十九

(b) 6, 60

9, 9

(c) $69 = 60 + 9$



6. 小至大排列：54, 56, 65, 69

7. 99, 10

8. 一百，圈出「雙數」

9. (a) 3

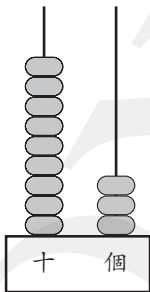
40, 70, 74

組成兩位雙數，個位數字只可以是「0」或「4」，十位數字只可以是「4」或「7」。

(b) 大至小排列：74, 70, 40

10. 小至大排列：76, 82, 98

11. 93



排出最大的兩位單數，所以畫9粒算珠在十位，餘下3粒畫在個位上。

12. 最高分是第 二 次；

比較十位數字，最大的是9，選出90和95；再比較個位數字，5比0大，所以95比90大。

最低分是第 三 次。

比較十位數字，最小的是7。